

**Краевая предметная Олимпиада
по математике**

Место проведения: ГКОУ КК специальная (коррекционная) школа-интернат
ст. Полтавская

Задания для 2 класса

1. Сравни числа. Поставь знаки $>$, $<$, $=$.

4 ... 6 12см... 9см 20 ... 20
5 ... 3 5см ... 15см 19 ... 16

(0-4 балла)

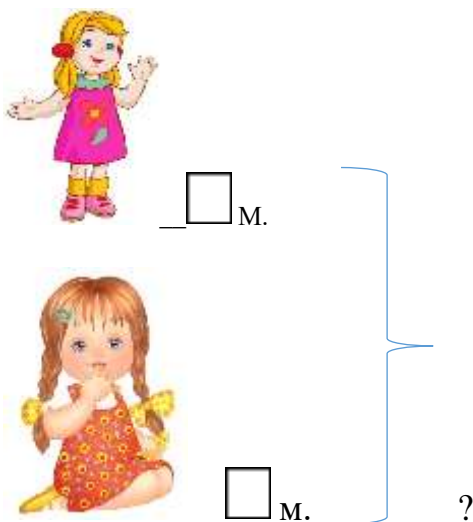
2. Укажи «соседей» чисел.

- 1) ...7...
- 2) ...11...
- 3) ...19...

(0-3 балла)

3. Решите задачу.

У Кати 10 матрёшек, а у Даши 7 матрешек. Сколько матрёшек у Кати и Даши вместе.

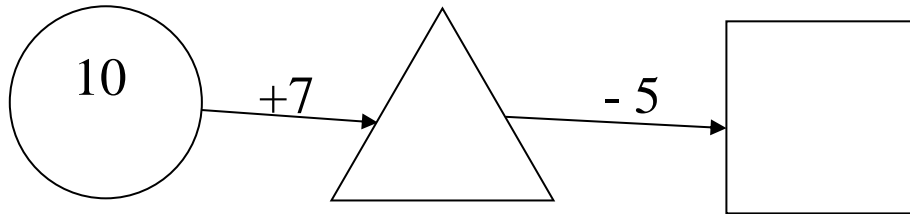


Решение:

Ответ: _____

(0-2 балла)

4. Ответьте на вопрос. Какое будет число в последней фигуре?



(0-2 балла)

5. Выбери, какие числа больше 17

1) 15

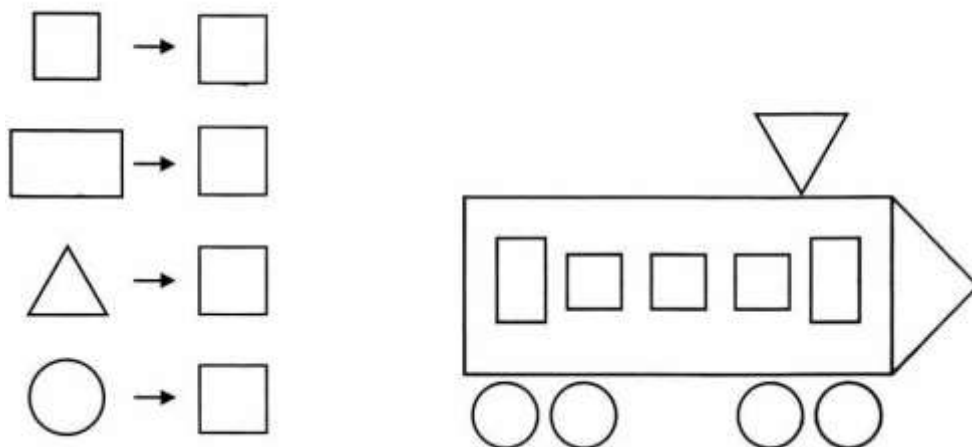
2) 18

3) 13

4) 19

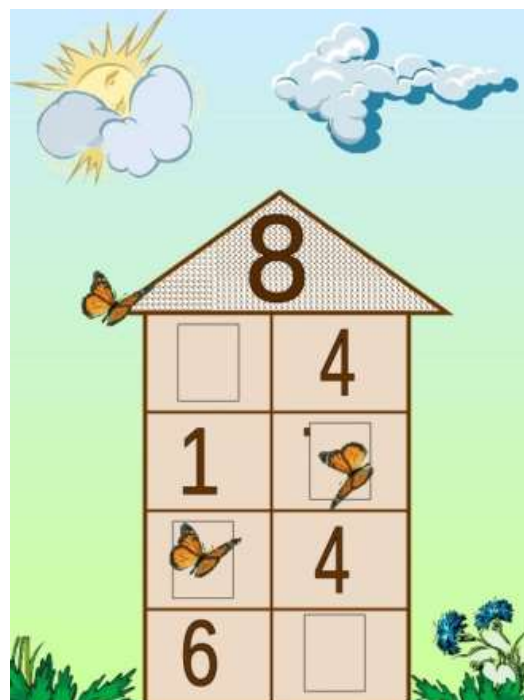
(0-2 балл)

6. Посчитай и запиши, сколько геометрических фигур на рисунке:



(0-1 балла)

7. Засели домики:



(0-4 балла)

8. Реши задачу.

На ёлку повесили 18 красных шаров, а жёлтых на 6 шаров меньше. Сколько жёлтых шаров повесили на ёлку?



- ш.



_ ? на ш. меньше

Решение:

Ответ: шаров.

(0-2 балла)

9. В воздухе летели орёл, голубь, стрекоза и сорока.

Сколько птиц летело в воздухе?



- 1) 4
- 2) 3
- 3) 2
- 4) 1

(0-1 балл)

10. Ответьте на вопрос. *Какая из машин сможет выехать на вызов?*
Обведи правильный ответ.

1) $10-7=17$

2) $10+4=15$

3) $14-4=10$



(0-1 балл)